

01 博₂幼₂數₂學₂檢₂定₂一 基₂礎₂運₂算₂第₂一₂級₂(自₂我₂檢₂定₂)

姓₂名₂： _____ 分₂數₂ _____

一、填₂充₂題₂：(每₂格₂ 3 分₂，共₂ 33 分₂)

1. 讀₂一₂讀₂、寫₂一₂寫₂：

(1) 四₂百₂五₂十₂六₂寫₂作₂()。



(2) 107 讀₂作₂()。



2. 比₂比₂看₂，在₂()內₂填₂入₂>、< 或₂=：

(1) 5×7 () 4×8

(2) 6×2 () 3×4

(3) 9×3 () 5×5

3. 一₂件₂  453 元₂，一₂件₂  435 元₂，請₂問₂

哪₂一₂件₂比₂較₂貴₂? ( 、 )

4. 小₂方₂原₂有₂ 94 元₂，媽₂媽₂又₂給₂他₂ 18

元₂，小₂方₂現₂在₂有₂()元₂。

5. 一₂枝₂鉛₂筆₂ 8 元₂：

(1) 買₂ 3 枝₂鉛₂筆₂要₂花₂()元₂。

(2) 買₂ 7 枝₂鉛₂筆₂要₂花₂()元₂。

6. 冰₂箱₂裡₂有₂ 72 顆₂草₂莓₂：

(1) 平₂分₂給₂ 8 個₂人₂，每₂人₂分₂到₂

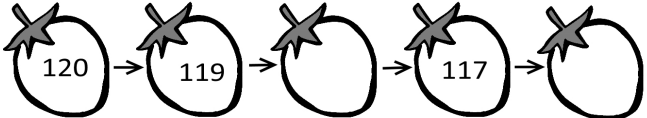
()顆₂。


(2) 每₂ 9 顆₂裝₂成₂ 1 盒₂，可₂以₂裝₂成₂

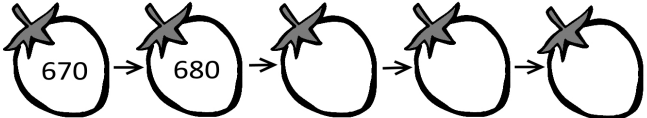
()盒₂。

二、按₂照₂數₂的₂順₂序₂填₂填₂看₂：(每₂格₂ 2

分₂，共₂ 14 分₂)

1. 

2. 

3. 

三、寫₂出₂直₂式₂算₂算₂看₂：(每₂題₂ 4 分₂，

共₂ 20 分₂)

1. $37 + 42$

2. $326 + 547$




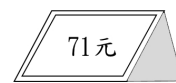


3. $89 - 17$

4. $65 - 28$


5. $137 - 52$

四、用 100、50、10、5、1 畫出正確的金額的錢幣，在數字中比較多的在

□ 裡打✓：(畫錢幣每題 2 分、打✓ 1 分，共 5 分)

五、用 50、10、5、1 付錢，請畫出兩種不一樣付錢的方式。(每種方式 2 分，共 4 分)



第一種	第二種

六、應用題：(每題 5 分，共 20 分)

1. 李爺爺原有 128 元，買牛奶用去 42 元，買文具用去 35 元，李爺爺還剩下多少錢？

2. 博幼數學班共有 164 位男生，女生比男生少 12 位，博幼數學班共有幾位學生？

3. 1 條緞帶原有 65 公分長，做卡片用去一些，還剩下 29 公分，請問做卡片用去多長的緞帶？

4. 冰箱裡有 24 個布丁，媽媽想平均分給 6 位小朋友，每位小朋友可以拿到幾個布丁？

七、怎麼分？圈圖看，再把作法記下來：(圈圖看 1 分、算式 3 分，共 4 分)

15 顆糖果，每 5 顆裝 1 袋，請問可以裝成幾袋？把分法圈出來，再把作法用算式記下來。

- ○ ○ ○ ○
- ○ ○ ○ ○
- ○ ○ ○ ○